



Математическая ярмарка



Подготовила
учитель начальных классов
МБОУ «СОШ №32»
г. Озерск, Челябинской обл
Сонкина Наталья Сергеевна



Математика

цифры числа задачи

уравнения равенства

неравенства сложение

вычитание диаграммы отрезок

величины частное множитель

квадрат разряды классы угол

миллион центнер век

выражение





Нумерология

**Нумерология – наука о числах,
берёт свое начало в древности.**

**Основателем
нумерологии считают Пифагора.**





Великий

математик

**Пифагор (570 – 490 года до н.э.) –
древнегреческий математик, философ.**





Разминка

1

1

3

9

5

10





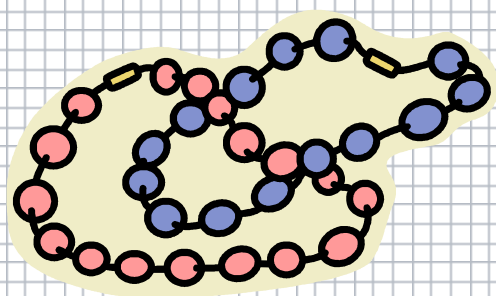
День недели на ладони

2






Математические бусы



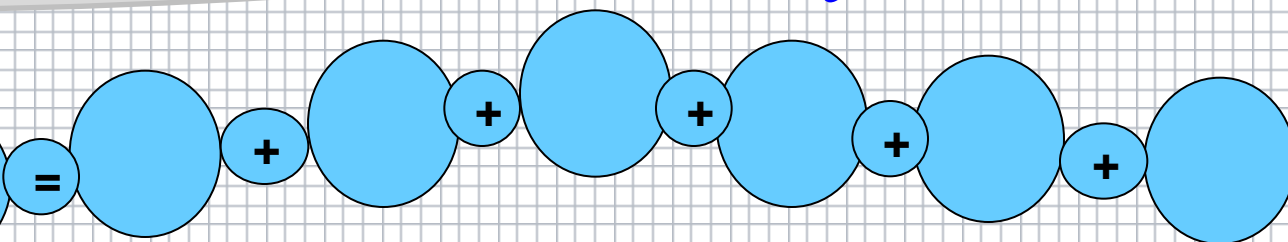
3



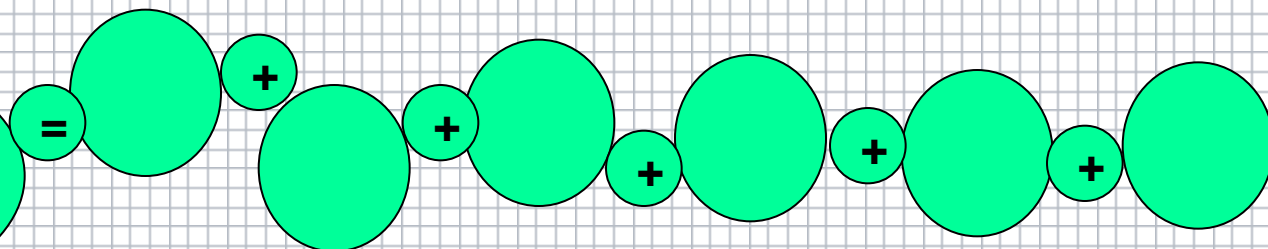


Математические бусы

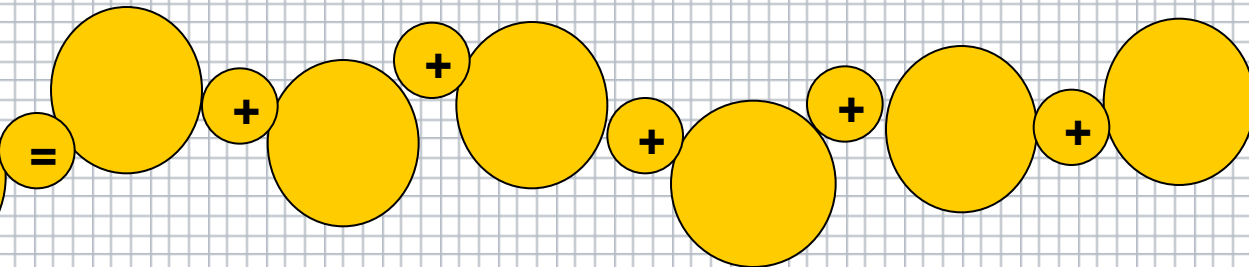
13256001



70045619



600578097





Что означают эти выражения?

4





*Одна нога здесь,
другая –там.*

*На все четыре
стороны.*

*Десятая вода на
киселе.*

*Как свои пять
пальцев.*

*От горшка два
вершка.*


*Попасть на
седьмое небо.*





Отгадай ребусы

5





1. СВИ 100 К

СВИСТОК

2. 17 : 9

$18:9=2$

3. 9 ~~ть~~ НО 100

ДЕВЯНОСТО

4. 7 x 20

$8 \times 20 = 160$




5. 0 5 , а

ОПЯТА



ФИЗКУЛЬТ МИНУТКА





Кто быстрее?

6





Решить задачу

1	2	3	4
грядка	грядка	грядка	грядка

Огород разбит на четыре равные грядки, шириной 5м и длиной 7м.

Вычислите площадь огорода?

Чему равен периметр этого огорода?





Проверка

$$5 * 7 * 4 = 140 \text{ м}^2$$

$$5 * 8 + 7 * 2 = 54 \text{ м}$$


$$(5 * 4 + 7) * 2 = 54 \text{ м}$$






Объёмные фигуры

7





Прояви смекалку



8

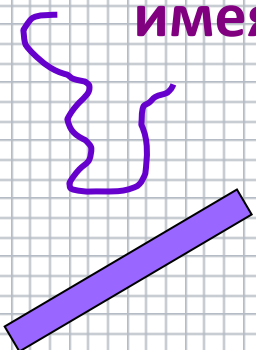





**Мог ли человек написать
о себе так: “У меня
пальцев двадцать пять
на одной руке, столько
же на другой, да на
ногах десять?”**

**В доме 11 этажей. Какой
этаж средний?**

**Как найти середину палки,
имея веревку такой же
длины?**



**На полке 5 пар сапог.
Сколько сапог на правую
ногу?**





Догадайся!

9





Деревня Орловка находится в 60... от города. На машине этот путь можно проехать за 45..., а на автобусе за 1.... Площадь деревни составляет 18.... В Орловке проживает трудолюбивый народ. Жители занимаются сельским хозяйством. Выращивают скот, зерновые культуры, овощи и фрукты. В этом году уродился богатый урожай. С поля площадью 5... собрали 40... пшеницы. С огорода в 10... собрали 10... картофеля, 250... моркови и свёклы. В саду площадью 500... выросли 2... яблок, 100... груш. Животноводство дало 150... мяса. Деревенскую продукцию поставляют в город. Горожане всё это могут купить в магазинах и на ярмарке.





Деревня Орловка находится в **60км** от города. На машине этот путь можно проехать за **45мин**, а на автобусе за **1ч**. Площадь деревни составляет **18кв. км**. В Орловке проживает трудолюбивый народ. Жители занимаются сельским хозяйством. Выращивают скот, зерновые культуры, овощи и фрукты. В этом году уродился богатый урожай. С поля площадью **5га** собрали **40т** пшеницы. С огорода в **10а** собрали **10ц** картофеля, **250кг** моркови и свёклы. В саду площадью **500кв.м** выросли **2ц** яблок, **100кг** груш. Животноводство дало **150т** мяса. Деревенскую продукцию поставляют в город. Горожане всё это могут купить в магазинах и на ярмарке.





Подведение итогов

